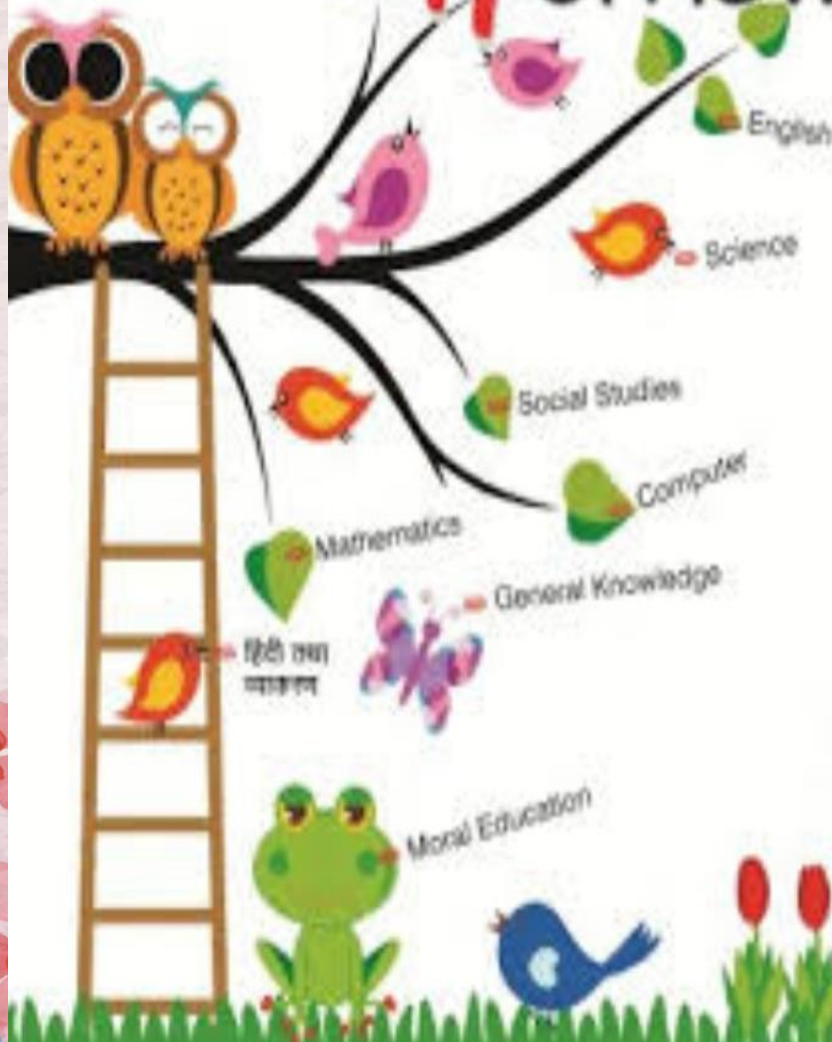




Worksheets

Class - 4

Holidays Homework



Base Model Sr. Sec. School

Class – 4th

GK Summer Vacations Homework

Name : _____

Class : _____

Section : _____

[A] Tick (✓) the correct answers :

1. The Rhea is a.....bird.

a. flightless

b. featherless

c.

Water

2. A butterfly tastes with its.....

a. feelers

b. feet

c. tongue

3.bears eat eucalyptus leaves.

a. Polar

b. Grizzly

c. Koala

4. Giddha is the folk dance of.....state.

a. Haryana

b. Punjab

c. Kerala

5. No two zebras have identical.....

a. colour

b. stripes

c. fur

[A] Match the following :

Column

I

Column II

a. First President

i) Mr. Narendra Modi

b. First Prime Minister ii)

Mahatma Gandhi

c. Current President

iii) Ramnath Kovind

d. Father Of Nation

iv) Dr. Rajendra Prasad

e. Current Prime Minister v)

Pt. Jawaharlal Nehru

[C] Answer the following questions :

1. Which is the nearest star to earth?

2. Who designed National flag of India?

3. Mount Everest located in which country?

4. India lies in which continent?

5. Which is the most sensitive organ in our body?

IT Summer Vacations Homework

[A] Write the full forms of the following :

1. _____ CD

2. _____ DVD

3. _____ GUI

4. _____ RAM

5. _____ ROM

[B] Drag the correct word and fill in the blanks :

Binary

Bytes

Icons

Recycle bin

Bit

.....are small pictures that represent files, folders,

and programs.

.....stands for binary digit.

Computer stores and process data
using.....numbers.

.....holds deleted files and folders.

Computer memory is measured in.....

[C] Match the following:

Column I

Column II

a. DVD

i) 8 TB

b. Blu-ray Disk

ii) Deleted items

c. Icons

iii)

128 GB

d. Hard Disk

iv) 4.7 to 17 GB

e. Recycle Bin

v) Small pictures

[C] Define the following terms :

1. Recycle Bin

2. Shortcut Icons

3. Taskbar

4. Flash Drive

S.St. Assignment

*****Read & Learn word meaning, Q/A & exercise of Ch-1 & 2**

Q.1). Fill in the blanks:

- a) The southernmost boundary of India is _____ and the southernmost tip is _____.
- b). _____ is the most populous country in the world.
- c) _____ is a local wind from Rajasthan that affect the climate of Uttar Pradesh and Delhi in summer.
- d) The height of Mt K2 is _____.
- e). The people of Purvanchal Himalayas weave beautiful _____ garments.
- f) Garo, khasi ,Jaintia, Naga and Mizo hills together form the _____.

Q.2) State True or False:

- a) The lesser Himalayas is known as Himachal. _____
- b) Jammu and Kashmir faces a very hot climate all through the year. _____
- c). The coastal plains are hot and humid during summer. _____
- d) The Andaman and Nicobar Islands is in the Bay of Bengal.

e) A valley is a moving mass of ice. _____

f) Arunachal Pradesh is the largest state among the north - eastern states. _____

Q.3) Match the following columns:

Column(A)

Column(B)

A) A valley

Loo

B) Island Country

Nainital

C) A hill station

Purvanchal

D) Eastern Himalayas

Dehradun

E) A wind

Maldives

Q.4). Write the meaning of the following words:

1) Diversity:

2) Coast:

3) Glacier:

4) Enclose:

Q.5) Answer the following questions:

- a) why is India called a Peninsula?
 - b) Name the physical features of India.
 - c) What is a phiran?
 - d) State any three uses of Himalayas.
 - e) Differentiate between the western and the eastern Himalayas.
 - f) Define Valley.
- Q.6) Do practice of Map Work.

Assignment (English Grammar)(4th)

Chapter- 1 and 2 (Sentences and Nouns)

Q-1- Fill in the blanks with singular form of the nouns in brackets:

- 1. Mr Gupta's is an artist. (wives)**
- 2. A fell into the soup. (files)**

Q-2- Read the given sentences carefully. Write whether it is declarative, Interrogative, exclamatory or Imperative:

- 1. Can you help me carry this box?**
- 2. Please work silently.**
- 3. Wow, what a beautiful car!**
- 4. Today is Atul's birthday.**

Q-3- Join the underlined nouns in the sentences with nouns given in the bracket to form compound nouns. Use the compound nouns to complete the sentences:

(Hints- ground , room)

- 1. Please mop the floor after you have had a bath.**
- 2. All the children are going to play football in the**

Q-4- Fill in the blanks with abstract nouns from the given hints:

(Hints- style , memory)

- 1. As we grow old our fades.**
- 2. She carries herself with great**
- 3. Ronald spent his in Mussoorie.**

Q-5- Match the subjects with their predicates to make complete sentence:

a) The teacher are gentle animals.


b) The policeman taught us very well.

c) The boys

caught the robbers.

d) Giant pandas watered the plants.

Q-6- Rearrange the letters to form collective nouns that match the pictures:



Literature *Q-1-Write the meaning of the given words:*

Snuggles , Window sill , Always , Sleepy head , Lie

Q-2- Write the answer of the given questions:

1. *Who are already awake?*
2. *What do you think birds say to each other ?*
3. *What did Neha wish ?*
4. *Who does not want her to miss the school bus?*
5. *Who fills Neha's room with a warm smile?*
6. *Write the superlative degree of 'warm'.*

Q-3- Fill in the blanks :

1. *Neha snores till she her mother's voice.*
2. *This alarm always rings at*
3. *I wish this clock would its job sometimes.*

Science

A. Fill in the blanks.

1. Top soil is rich in_____
2. The middle layer of soil is called_____
3. _____has a rough texture.
4. _____soil is smooth and sticky when wet.

B. Write T for true or F for false.

1. Animals need soil to grow.
2. Soil erosion makes land fertile.

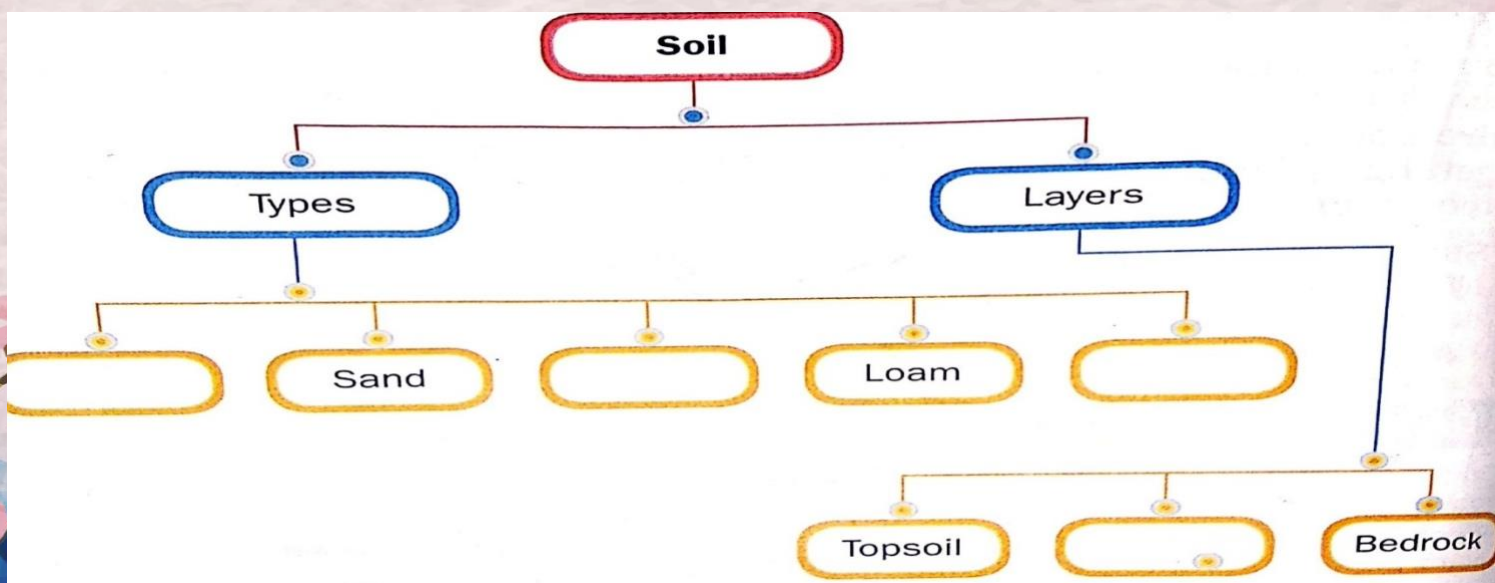
3. Soil profile is another name for layers of soil.
4. Silt consists of tiny stones and does not hold water well.

C. Give two examples for each of these.

1. Particles found in top soil _____, _____
2. Microorganisms found in the soil _____, _____


D. Key words

1. Subsoil
2. Topsoil
3. Human
4. Soil conservation



E. Complete this flow chart.

F. Label the diagram.



Assignment-2

A. Fill in the blanks :

1. The process by which plants make food is called-----

2. The tiny holes on leaves are called -----

**3. The food prepared by plants is-----
stored as-----**

**4. Another name for the leaf blade is
-----**

5. Plants get water through their----- from the -----

6. A sugarcane is a ----- that stores -----

B. Write T for true or F for false.

1. Extra food is stored in the flower of the plant.

2. Chlorophyll traps energy from sunlight.

3. A carrot is a stem.

4. The veins of leaves transport water and minerals.

C. Keywords

1. Midrib

2. Petiole

3. Lamina

4. Stomata

The background of the entire page is a soft, watercolor-style illustration of pink cherry blossoms. The blossoms are in various stages of bloom, with some showing five petals and others as buds. The colors range from light pink to a deeper magenta, with some blue washes visible in the background. The overall effect is a gentle, spring-like atmosphere.

D. Who am I ?

1. I look very beautiful and may have various colours . I help the plant to make seeds.-----

2. I support the plant and absorb water from the soil.-----

3. I keep the plant upright and transport water to leaves. -----

4. I look green and make food for the plant. I am the kitchen of a plant.-----

E. Choose the Correct answers.

1. -----is stored in roots ,stems and seeds.

a. Oxygen

b. sugar

c. Starch

2. ----- is part of a leaf.

a. Midrib.

b. Petal.

c. Root

hair

3. ----- allow exchange of gases.

a. Flowers.

b. Stomata.

c. Roots


4. When animals die, their decayed bodies mix with soil to form-----

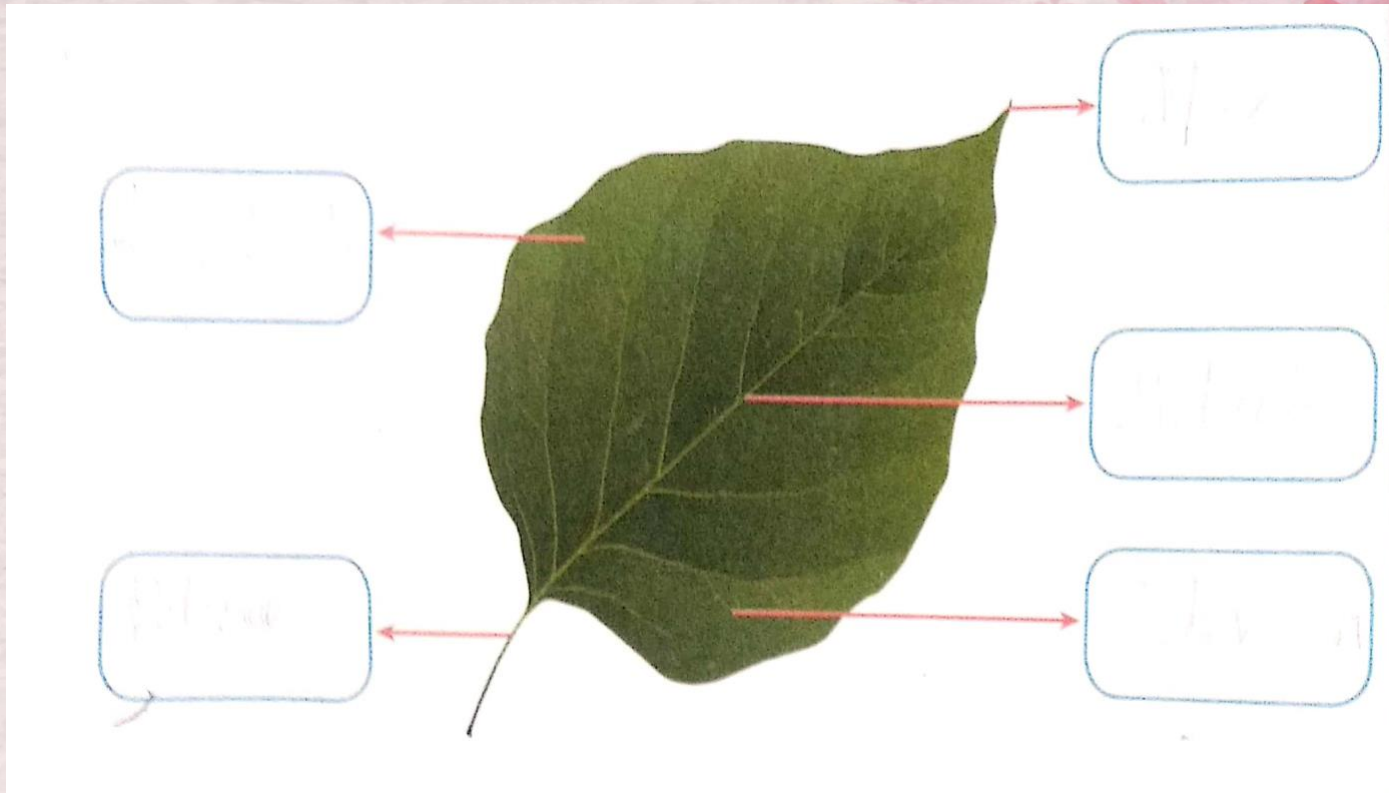
a. Humus.

b. Phosphorus.

c. Waste

F. Draw and Label these diagrams.





विषय : हिंदी साहित्यनियतकार्य

प्रश्न - 1 निम्नलिखित अशुद्ध शब्दों को शुद्ध रूप लिखिए -

सैतानी

कुबड

उंट

सुंड

चूपके

हीनदुसतान

कौसिश

बहादूर

गीनकर

सन्ख्या

क्योंकी

प्रश्न - 2 निम्नलिखित शब्दों के अर्थ लिखिए -

आसमान

-

केन्द्र-

तोंद

-

संदेह-

बाढ़

-

आबादी -

जिद्दी

-

अनुरोध -

तूफानी

-

नाक- भौंह सिकोड़ना-

अभिमान

-

निरा-

संतोषजनक

खास-

प्रश्न - 3 निम्नलिखित रिक्त स्थानों की पूर्ति कीजिए।

क) बादल----- बनकर नदी- नालों में बाढ़ ले आते हैं।

ख) बादल आसमान में - - - - - लगाते हैं।

ग) कुछ बादल - - - - - की तरह कूबड़ वाले हैं।

घ) ख्वाजा सरा बीरबल को - - - - - समझाते थे।

ड.) ख्वाजा साहब अचकन- पगड़ी पहनकर अपनी----- सहलाते हुए दरबार में पहुँचे।

च) बादशाह बीरबल के उत्तरों से----- हो गया।

प्रश्न - 4 निम्नलिखित शब्दों को अपने वाक्यों में प्रयोग करें।

बादल -

झब्बर -

मुसीबत -

अभिमान -

संसार-

प्रश्न - 5 निम्नलिखित प्रश्नों के उत्तर केवल एक या दो शब्दों में दीजिए।

क) बादल किसकी तरह तोंद फुलाए हुए हैं?

ख) कुछ बादल बार-बार क्या करते हैं?

ग) बादल किसकी तरह ढोल बजाते हैं?

घ) बादलों के गाल किसके जैसे हैं?

ड.) बादशाह अकबर के खास मंत्री का क्या नाम था?

च) बीरबल से घृणा कौन करता था?

छ) बादशाह अकबर ने बीरबल से कितने सवाल पूछे?

ज)ख्वाजा सरा का दूसरा प्रश्न क्या था?

प्रश्न - 6 निम्नलिखित प्रश्नों के उत्तर विस्तार पूर्वक दीजिए।

क) तूफान किसे कहते हैं?

ख)साल के किन - किन महीनों में ज्यादा बादल छाते हैं?

ग) बादल काले रंग के क्यों दिखाई देते हैं?

घ)बीरबल की तरह हाजिरज़वाबी के लिए प्रसिद्ध अन्य व्यक्तियों के नाम लिखिए।

ड.) अगर तुम ख्वाजा सरा की जगह होते तो बीरबल को हराने के लिए कौन - सा सवाल पूछते?

हिन्दी व्याकरण - नियतकार्य

प्रश्न - 1 निम्नलिखित प्रश्नों के उत्तर दीजिए।

क) भाषा किसे कहते हैं? भाषा के कितने रूप होते हैं? नाम लिखिए।

ग) मौखिक भाषा किसे कहते हैं? उदाहरण सहित समझाइए।

घ) लिपि किसे कहते हैं?

ङ) राजभाषा किसे कहते हैं?

च) व्याकरण किसे कहते हैं?

छ) वर्ण किसे कहते हैं? वर्ण के कितने भेद होते हैं?

ज) व्यंजन किसे कहते हैं?

झ) मात्रा किसे कहते हैं?

प्रश्न - 2 रिक्त स्थानों की पूर्ति कीजिए।

क) आदिमानव _____ के द्वारा अपनी मन की बात बताते थे।

ख) पत्र लिखना _____ भाषा का रूप है।

ग) टेलीफ़ोन पर बातें करना _____ भाषा का उदाहरण है।

घ) इशारों द्वारा अपनी बातें समझाना _____ भाषा कहलाती है।

ड.) पूरे विश्व में सबसे ज़्यादा बोली जाने वाली भाषा _____ है।

च) अंग्रेजी भाषा से आए हुए स्वर को

_____ कहते हैं।

छ) दो व्यंजनों के मेल से बने व्यंजनों को _____ कहते हैं।

ज) जिन वर्णों को बोलने के लिए किसी अन्य वर्ण की सहायता नहीं लेनी पड़ती उसे _____ कहते हैं।

झ) किसी शब्द में आई हुई ध्वनियों को अलग-अलग करना _____ कहलाता है।

प्रश्न - 3 निम्नलिखित भाषाओं की लिपियों के नाम लिखिए।

क) पंजाबी

ख) उर्दू

ग) नेपाली

घ) जर्मन

ड.) फ्रेंच

च) हिंदी

छ) अंग्रेजी

ज) संस्कृत

प्रश्न - 4 निम्नलिखित शब्दों का वर्ण विच्छेद
कीजिए।

बाज़ार

नदी

पैसा

चिड़िया

कविता

तितली

वर्षा

कक्षा

आश्रम

ज्ञानी

प्रश्न - निम्नलिखित संयुक्ताक्षरों का प्रयोग करके

चार-चार शब्द बनाइए।

स्त —

कख—

न्य —

स्व —

नोट - प्यारे बच्चों! हिंदी साहित्य व हिन्दी व्याकरण दोनों में पाठ 1 और 2 व 'जीवन में खेलों का महत्व) निबंध तथा हिंदी व्याकरण की पुस्तिका में कराया गया प्रार्थना पत्र याद करें। व ग्रीष्म ऋतु पर आधारित कोई एक कविता भी याद करें।

धन्यवाद ।

Maths

I. Find the given numbers:

©math-only-math.com

1. One less than 4 million.
2. How many lakhs make a million?
3. How many thousands make a crore?
4. One more than 48 crore.
5. The place value of 7 in 33,987,259.

©math-only-math.com

©math-only-math.com

III. Find the number:

1. The successor of 22,368,089: _____
2. 10 thousand more than 35 thousand: _____
3. 3367821 rounded to nearest 1000: _____
4. Next 2 numbers in the pattern:
27,000,000; 30,003,000; 33,006,000 _____ , _____
5. 1 lakh less than 2,43,18,000: _____

©math-only-math.com

©math-only-math.com

CHOOSE THE CORRECT NUMBER NAME FOR THE GIVEN NUMBER

5060

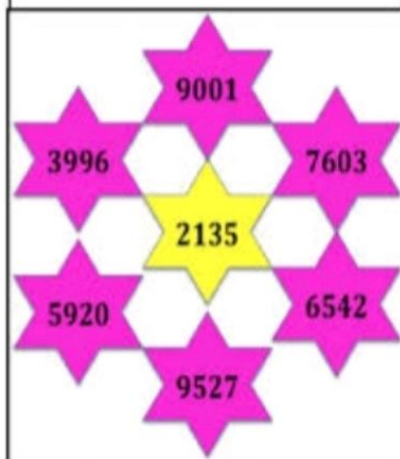
3990

1049

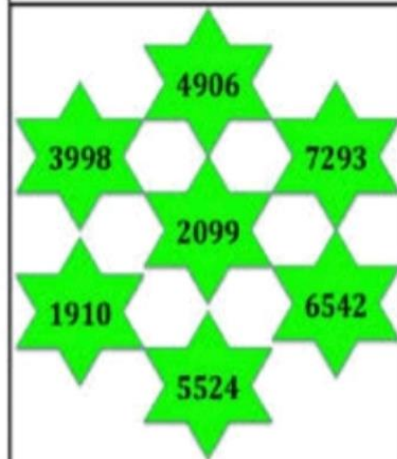
4006

8900

CHOOSE THE ODD NUMBERS



CHOOSE THE EVEN NUMBERS



Round off the following numbers to the nearest ten.

1. 56,546 \Rightarrow _____

2. 121,801 \Rightarrow _____

3. 564,677 \Rightarrow _____

4. 65,922 \Rightarrow _____

5. 70,009 \Rightarrow _____

6. 843,127 \Rightarrow _____

Round off the following numbers to the nearest hundred.

7. 232,888 \Rightarrow _____

8. 10,871 \Rightarrow _____

9. 39,299 \Rightarrow _____

10. 22,617 \Rightarrow _____

11. 101,520 \Rightarrow _____

12. 66,291 \Rightarrow _____

Round off the following numbers to the nearest thousand.

13. 25,222 \Rightarrow _____

14. 112,890 \Rightarrow _____

15. 762,985 \Rightarrow _____

16. 27,879 \Rightarrow _____

17. 610,823 \Rightarrow _____

18. 30,675 \Rightarrow _____

1. Compare the given roman numerals by putting the right sign.

a. III _____ VI

b. VIII _____ X

c. XXXI _____ XXIX

d. XXVI _____ XXVIII

2. Use the symbols $>$ $=$ $<$ in the correct places:

a. CLVI + XXXIV _____ 190

b. XI \times V _____ LIV

c. XXX - XXI _____ X

d. VII + XXIII _____ V \times VI

1. Write the number for the following:

(a) VII

(e) XIX

(b) IX

(f) XXVII

2. Match the Roman Numerals with the numbers:

(a) V

13

(b) XIII

8

(c) VIII

20

(d) XX

5

947	919	686	653	865	128
- 431	+ 295	- 211	+ 457	- 316	+ 872

413	696	248	305	937	507
- 225	- 297	+ 791	+ 165	- 604	- 115

508	843	877	524	191	168
- 194	+ 532	- 668	+ 528	+ 132	+ 741

596	792	525	793	812	813
- 126	+ 910	+ 535	+ 833	- 490	- 671

YUGA

for a Healthier Generation



Mountain Pose



Chair Pose



Crescent Moon Pose



Tree Pose



Child's Pose



Downward Facing Dog Pose



Happy Baby Pose



Butterfly Pose



Rag Doll Pose



Corpse Pose

Top10

www.Top10Home Remedies.com



***Do Exercise, Aasan, Yoga,
Praanayaam and Anuloam-Viloam
daily to stay fit and fine.***



Stay Safe, Stay Healthy,